

85
ШИФР 9-37

Олимпиадная работа
муниципального этапа всероссийской олимпиады школьников

по основам безопасности и защиты Родины

учащейся 9 класса

муниципального автономного общеобразовательного учреждения
«Образовательный комплекс «Лицей №3» имени С.П. Угаровой»
Старооскольского городского округа

Клещаровой Ксении Владимировны
(ФИО полностью)

Педагог-наставник:

преподаватель-организатор ОБЗР

МАОУ «ОК «Лицей №3» имени С.П. Угаровой»
(наименование ОУ)

Босенко Евгения Борисовна
(ФИО полностью)

« » 2025 г

ТЕОРЕТИЧЕСКИЙ ТУР

9 класс

Впишите свой код/шифр		

Уважаемый участник Олимпиады!

При выполнении заданий теоретического тура Вам предстоит выполнить определенную работу, которую лучше организовать следующим образом:

– не спеша, внимательно прочитайте задание и входящие в него вопросы или ситуации;

– определите, наиболее верный и полный ответ;

– если вы отвечаете на теоретический вопрос, обдумайте и сформулируйте конкретный ответ только на поставленный вопрос;

– если вы отвечаете на предложенную ситуацию, обдумайте порядок и последовательность действий по предложенной ситуации и впишите ответы в схему в той последовательности, которую вы определили, при этом ответ должен быть кратким, но содержать необходимую информацию;

– если вы отвечаете на задание, связанное с заполнением таблицы, не старайтесь детализировать информацию, вписывайте только те сведения или данные, которые указаны в вопросе или верхних графах;

– после выполнения всех предложенных заданий еще раз удостоверьтесь в правильности выбранных вами ответов и решений;

Задание теоретического тура по данной предметной секции считается выполненным, если Вы вовремя сдаете его членам жюри. Время выполнения задания составляет 180 минут.

Желаем вам успеха!

Оценка за Теоретический блок 75 баллов (максимальная 80 баллов)

Оценка за Блок тестирования 10 баллов (максимальная 20 баллов)

Оценка результата участника за **ТЕОРЕТИЧЕСКИЙ ТУР** 85 баллов
(максимально за теоретический тур 100 баллов)

гигиена), которая указывает на характер и масштаб воздействия землетрясения на поверхность земли, людей, животных, а также на

ественные и искусственные сооружения в районе землетрясения.
 ыполните задание:

А. Заполните правый столбец таблицы указав характер и масштаб воздействия согласно интенсивности землетрясения, и баллам.

Вариант ответа:

№	Интенсивность землетрясения, I, баллы	Характер и масштаб воздействия
1	1 балл (незаметное)	измеряется только прибором незаметно для живых существ
2	2 балла (очень слабое)	Могут почувствовать люди, находящиеся в покое
3	3 балла (слабое)	Чувствуют немногие люди
4	4 балла (умеренное)	Многие люди чувствуют колебания окон и дверей
5	5 баллов (довольно сильное)	сдвигается штукатурка, побелка, качаются люстры
6	6 баллов (сильное)	легкое повреждение зданий
7	7 баллов (очень сильное)	Значительное повреждение зданий
8	8 баллов (разрушительное)	Обрушение некоторых зданий
9	9 баллов (опустошительное)	Обрушение стен в зданиях
10	10 баллов (уничтожающее)	Освал в многих зданиях
11	11 баллов (катастрофа)	Трещины на поверхности земли
12	12 баллов (сильная катастрофа)	Раскол земли в больших количествах

Б. Вставьте в представленный ниже текст недостающие слова:

Текст

Будьте внимательны к сообщениям органов по делам _____(1)
 субъектов и городов РФ, строго выполняйте их указания и рекомендации. Обычно
 от момента первых колебаний до разрушительных толчков проходит
 _____(2) сек. Поэтому, если Вы ощутили _____(3), находясь в
 здании на первом-втором этажах, лучше быстро покинуть здание (при этом
 пользоваться _____(4) категорически запрещено) и отойти от него на
 открытое место.

Находясь выше _____ (5) этажа – уйдите из угловых комнат, займите наиболее безопасное место (на удалении от окон, в проемах внутренних капитальных стен, в углах между стенами, лучше под кроватью, столом или другими устойчивыми прочными _____ (6)).

За первым толчком, как правило, следуют _____ (7). Используйте затишье для выхода из дома. Берегитесь обрушения кусков штукатурки, стекол,

кирпичей, арматуры и др.

На улице держитесь подальше от зданий, линий электропередач, столбов, трубопроводов, мостов и др.

Если землетрясение застало в _____ (8) – остановитесь (лучше на открытом месте), откройте двери, но не покидайте салон автомобиля.

Вариант ответа:

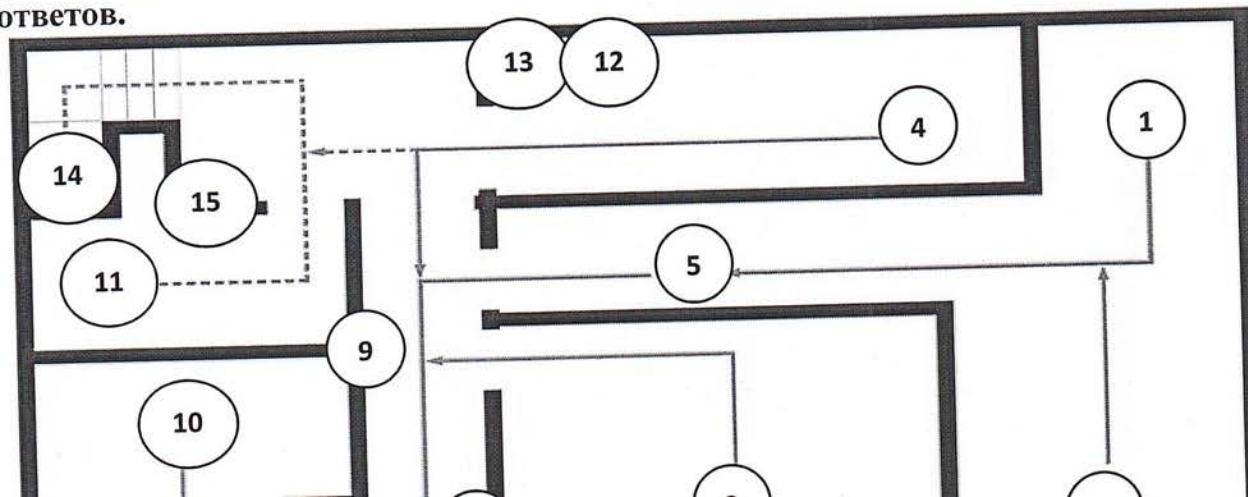
1	ГОЧС
2	10 секунд
3	землетрясение
4	мгнотом
5	второго
6	предметами
7	повторное
8	автомобиле





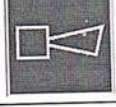

Оценочные баллы: максимально – 20 баллов;

фактически набранные баллы за задание – 20 .

Подписи членов жюри _____

Задание 2. На схеме отсутствуют эвакуационные знаки и знаки пожарной безопасности. Заполните таблицу, вписав цифры, соответствующие знакам, размещенным в указанных данными цифрами местах. Допускается 15 ответов.



		ЗАПАСНЫЙ ВЫХОД				
1, 2, 3, 4, 5, 11, 10	8	14	13, 9	6, 15	7	12

Оценочные баллы: максимально - 15 баллов;

фактически набранные баллы за задание -

Подписи членов жюри

Задание 3. К наиболее опасным террористическим актам можно отнести:

Вариант ответа:

1. Терракты в общественных местах (школах, ТЦ и т.д.) 2
2. Митирование зданий 2
3. Прокладывание на частную территорию с целью навредить людям
4. Захват людей в заложники (на улице, в доме и др. местах) 2
5. Похищение людей с целью выкупа 2
6. Распространение инфекционных заболеваний и заражение ими людей 2

благоприятные метеорологические условия	Грипп, ОРЗ
высокогорье	горная болезнь
Яркий солнечный свет	солнечный ожог
Отличный от привычного режима дня , ПИТАНИЯ	понос, вздутие, тошнота
Длительное физическое напряжение,	
трудности при передвижении по	заболевание позвоночника
пересечённой местности с тяжёлым	
рюкзаком	
Укусы насекомых	клещевой энцефалит, малярия

Б. Определите перечень личного снаряжения при подготовке к туристскому походу, поставив знак «+» в соответствующие ячейки.:

Пеший туристский поход	Перечень личного снаряжения, которые обеспечивают безопасность туриста в походе:	Водный туристский поход
+	Аптечка.	
+	Налобный фонарик	
+	Спальный мешок	
	Специальная обувь	+
+	Туристический коврик и сидуха	
	Защитная каска	+
+	Солнцезащитные очки и треккинговые палки	
+	Посуда для приёма пищи и бутылка для воды	
	Спасательный жилет	+

овиях ведения военных (боевых) действий (без дополнительных мероприятий первой помощи, которые могут выполнять лица, прошедшие подготовку по программам Минобороны) – столбец Б.

Вариант ответа:

А	Способы временной остановки наружных	Б
	кровотечений	
	Максимальное сгибание конечности в суставе	
+	Наложение кровоостанавливающего жгута	+
	Применение местного гемостатического средства	+
	Пальцевое прижатие артерии	+
+	Прямое давление на рану	+
+	Наложение давящей повязки на рану	+

Оценочные баллы: максимально – 9 баллов;

фактически набранные баллы за задание – 9.

Подписи членов жюри Жюри

Задание 6. Перечислите три основных причины чрезмерного увеличения веса человека:

Вариант ответа:

- 1. Неправильное питание, преобладание жиров в рационе
- 1. Неправильный режим питания
- 1. Наследственность
- Малоподвижный образ жизни

Оценочные баллы: максимально – 3 балла;

фактически набранные баллы за задание – 3.

Подписи членов жюри _____

	Баллы за задания Теоретического блока					
№ задания	1	2	3	4	5	6
Кол-во баллов	20	15	10	18	9	3

ЗАДАНИЯ ТЕОРЕТИЧЕСКОГО ТУРА (Блок тестирования)

№ п/п	Тестовые задания	Макс. балл	Кол-во набранных баллов
1	2	3	4

Определите все правильные ответы

1.	<p>После проведения оценки обстановки и обеспечения безопасных условий для оказания первой помощи выполняется следующее мероприятие первой помощи:</p> <p>а) определение наличия признаков жизни у пострадавшего;</p> <p>б) проведение подробного осмотра и опроса пострадавшего для выявления состояний, угрожающих его жизни и здоровью;</p> <p><input checked="" type="checkbox"/> в) проведение обзорного осмотра пострадавшего для выявления продолжающегося наружного кровотечения, его временная остановка (при наличии);</p> <p>г) оказание помощи пострадавшему в принятии лекарственных препаратов</p>	2	2
	<p>Верны ли следующие суждения? Восстановление проходимости дыхательных путей при оказании первой помощи рекомендуется выполнять:</p> <p>А. посредством запрокидывания головы с подъемом подбородка</p>	2	0

	в) Би-зет; г) Ви-икс		
5	По основному назначению топографические карты масштаба 1:25 000 относятся: а) к тактическим; б) к оперативно-тактическим; в) к оперативным; г) к общей оценке местности	2	0
6	В каких случаях карта не поможет в ориентировании на местности? а) в сильном тумане; б) в городе; в) на берегу реки;	2	2
7	Глубина указывается на топографических знаках, обозначающих: а) такыры; б) солончаки непроходимые; в) солончаки проходимые; г) болота непроходимые;	2	0
8	Наиболее эффективным при тушении пожара класса «С» являются: а) воздушно-эмульсионные огнетушители; б) водные огнетушители; в) воздушно-пенные огнетушители; г) порошковые огнетушители	2	2